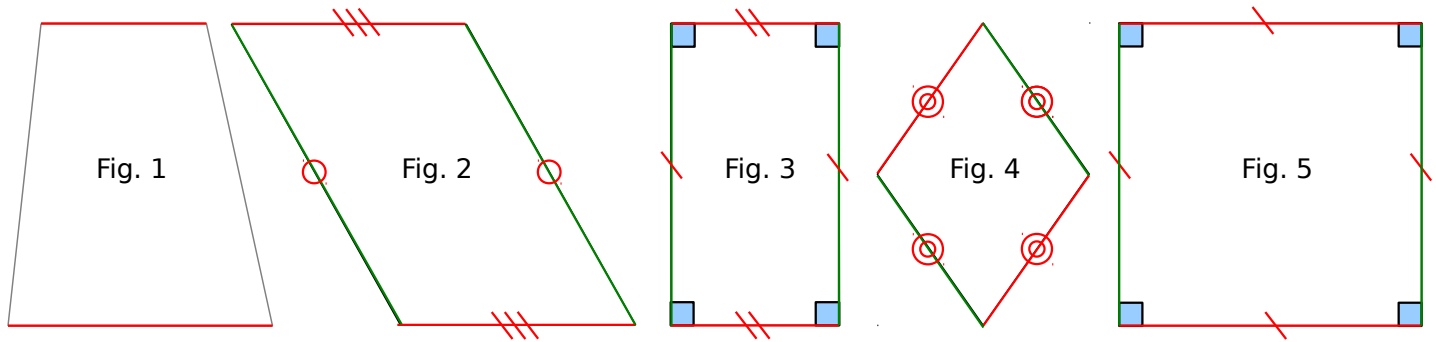


1 Pour chaque quadrilatère, code les angles droits, code les longueurs égales et repasse d'une même couleur les droites parallèles.



2 Donne la nature de chaque quadrilatère de l'exercice 1.

Fig. 1 : trapèze

Fig. 2 : parallélogramme

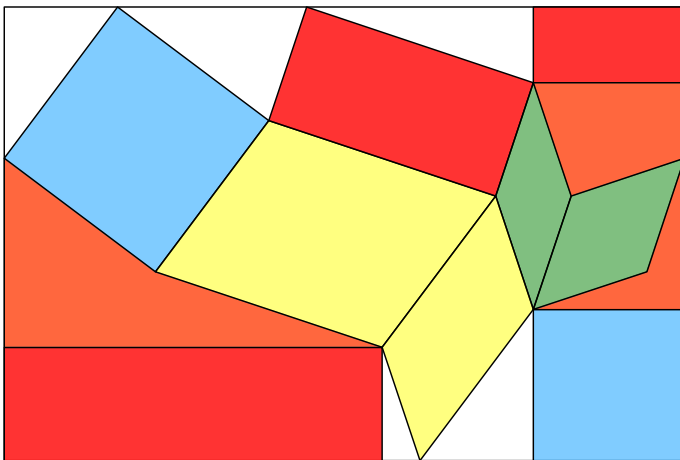
Fig. 3 : rectangle

Fig. 4 : losange

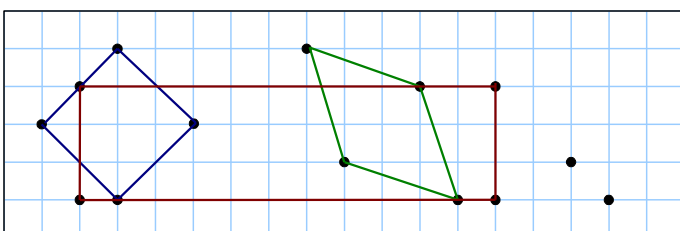
Fig. 5 : carré

3 Dans la figure ci-dessous, colorie :

- a. les carrés en bleu ;
- b. les rectangles en rouge ;
- c. les losanges en vert ;
- d. les parallélogrammes en jaune ;
- e. les quadrilatères quelconques en orange.



4 Trace un carré en bleu, un rectangle en rouge et un losange en vert ayant pour sommets des points du quadrillage.




5 Construis chaque quadrilatère.

a. Un carré de côté 4,5 cm.



b. Un rectangle de côtés 6,2 cm et 4,8 cm.



c. Un losange dont une diagonale mesure 8 cm et les côtés mesurent 4,7 cm.

