
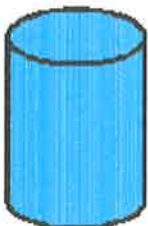
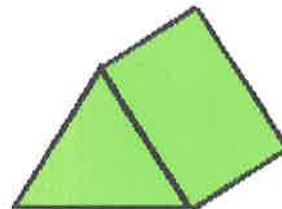
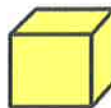
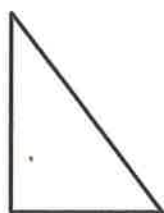
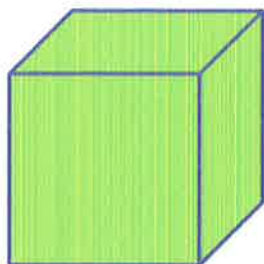


LES SOLIDES
SOLUTION

1) Colorie les figures qui sont des solides.



2) Décris les solides suivants.



nombre de faces : 6

nombre d'arêtes : 12

nombre de sommets : 8

Les faces sont toutes des carrés.

Je suis un CUBE.

nombre de faces : 6

nombre d'arêtes : 12

nombre de sommets : 8

Les faces sont toutes des rectangles.

Je suis un PAVÉ.

