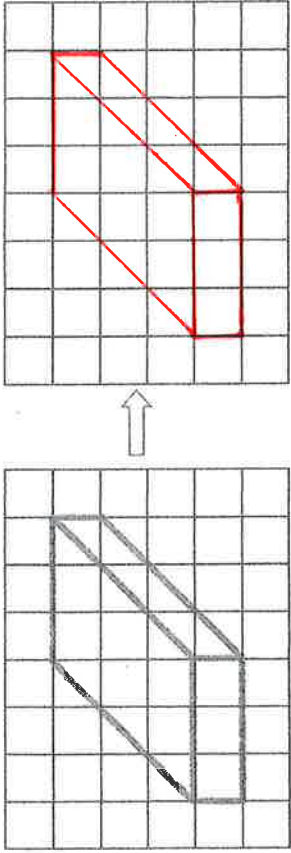


Décrire le pavé

Reconnaître, décrire, nommer quelques solides droits : cube, pavé...

Reproduis le pavé sur le quadrillage:

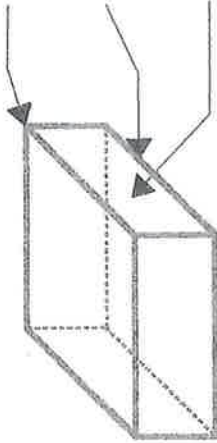


Ecris les mots au bon endroit : face - sommet - arête

..... sommet

..... arête

..... face



Complète:

Le pavé a 6... faces.

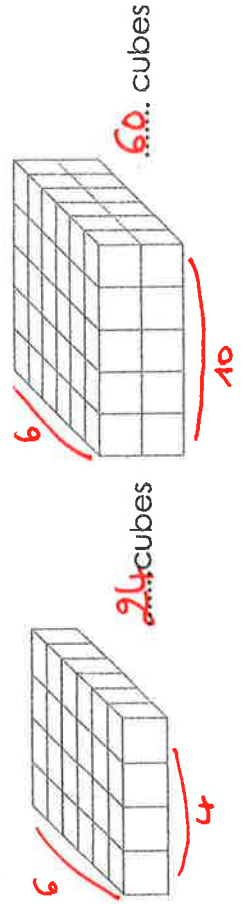
Le pavé a 6... sommets.

Le pavé a 6... arêtes.

Quelle est la forme de chacune des faces du pavé ?

Elle est rectangulaire.

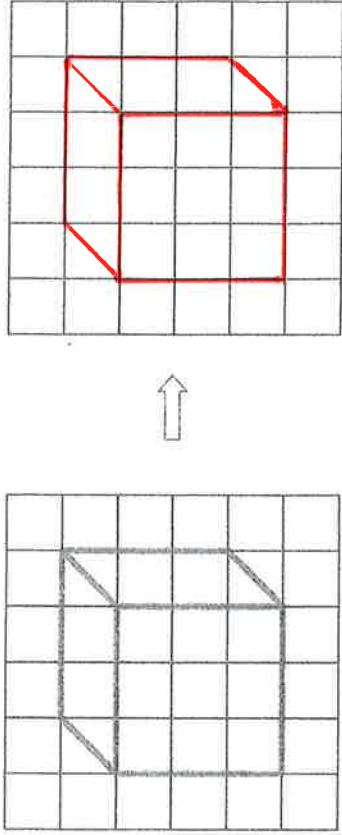
Combien a-t-il fallu de cubes pour fabriquer ces pavés ?



Décrire le cube

Reconnaître, décrire, nommer quelques solides droits : cube, pavé...

Reproduis le cube sur le quadrillage:

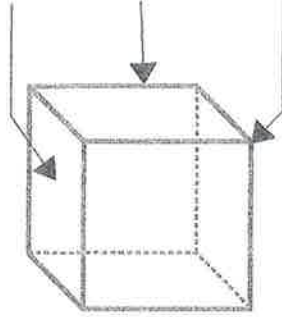


Ecris les mots au bon endroit : sommet - arête - face

..... face

..... arête

..... sommet



Complète:

Le cube a 6... faces.

Le cube a 6... sommets.

Le cube a 6... arêtes.

Les faces du cube ont quelle forme ? (Entoure)

