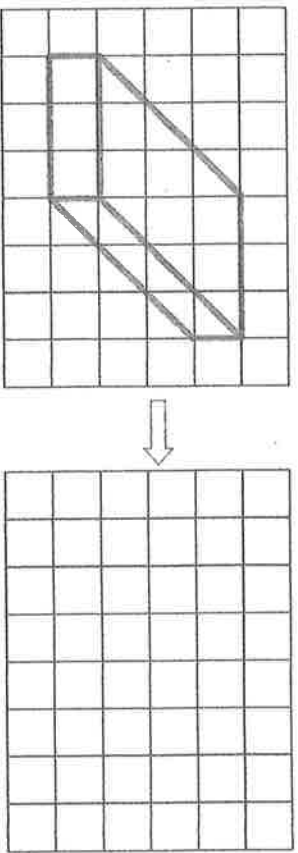


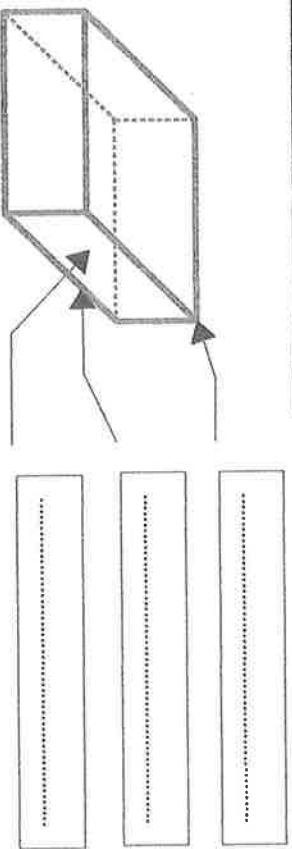
Décrire le pavé

Reconnaitre, décrire, nommer quelques solides droits : cube, pavé...

Reproduis le pavé sur le quadrillage:



Ecris les mots au bon endroit : face - sommet - arête



Complète:

Le pavé a faces.

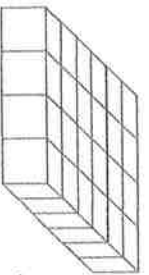
Le pavé a sommets.

Le pavé a arêtes.

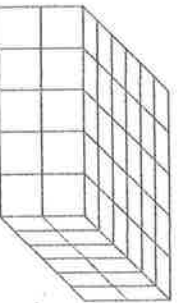
Quelle est la forme de chacune des faces du pavé ?

.....

Combien a-t-il fallu de cubes pour fabriquer ces pavés ?



.....cubes

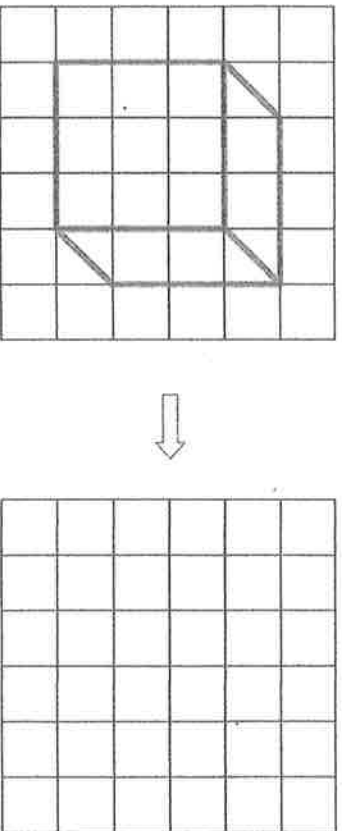


..... cubes

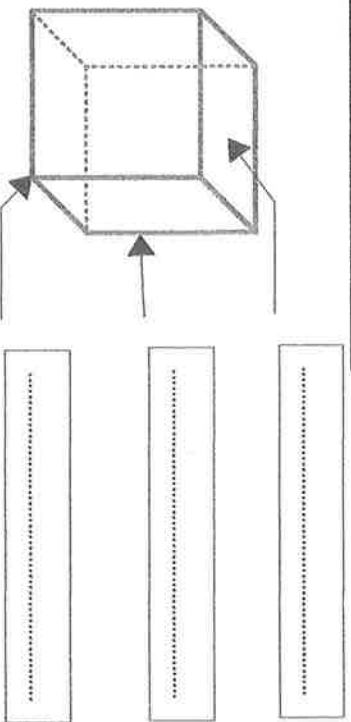
Décrire le cube

Reconnaitre, décrire, nommer quelques solides droits : cube, pavé...

Reproduis le cube sur le quadrillage:



Ecris les mots au bon endroit : sommet - arête - face



Complète:

Le cube a faces.

Le cube a sommets.

Le cube a arêtes.

Les faces du cube ont quelle forme ? (Entoure)

