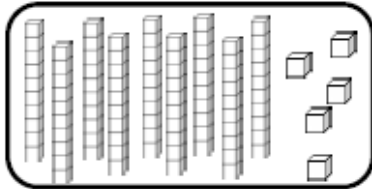


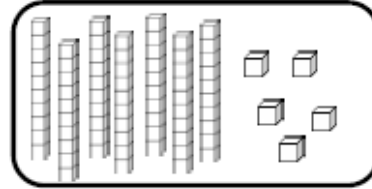
# Fiche n° 1 : Les nombres de 0 à 100

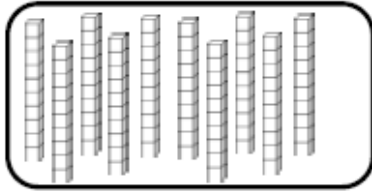
## Nombres et quantités : de 0 à 100

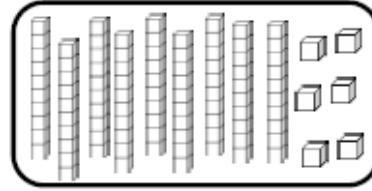


1 Complète avec le bon nombre :

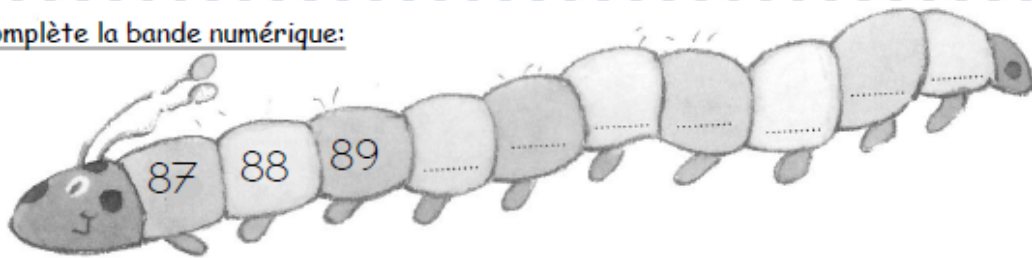









2 Complète la bande numérique:



## Nombres et quantités : de 0 à 100

1 Complète les cases grises du tableau des nombres

	51							
					66			
		72						
80					85			
								99

2 Colorie les pièces et billets correspondants à la somme dans la tirelire :

