




# Reconnaitre des carrés et des rectangles

4 La figure orange est-elle un carré? ... *non* .....

Pourquoi? *parce que la figure a bien 4 angles droits mais ses 4 côtés ne sont pas de la même longueur.*



Pour les exercices 5 et 6, utilise ces figures.



5 Utilise une bande de papier.

• Trouve les figures qui sont des carrés.

*k, p*

• Trouve les figures qui sont des rectangles, mais pas des carrés.

*l, m*

6 Utilise ton double-décimètre.

• Trouve la figure qui correspond à chaque message.

*Je suis un rectangle.*

*Mes côtés mesurent 3 cm et 5 cm.*

*m*

*Je suis un carré.*

*Mes côtés mesurent 4 cm.*

*p*