

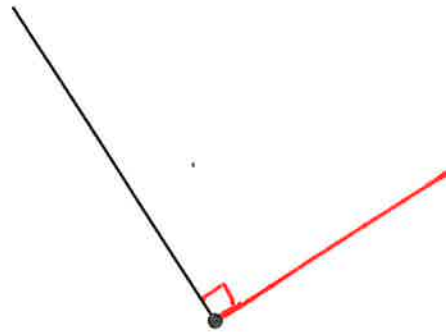
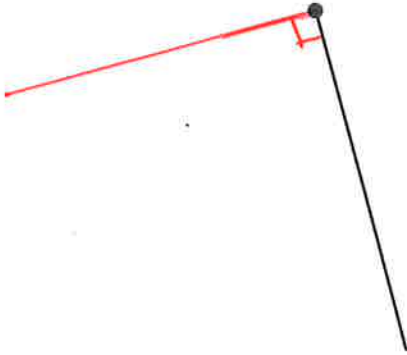
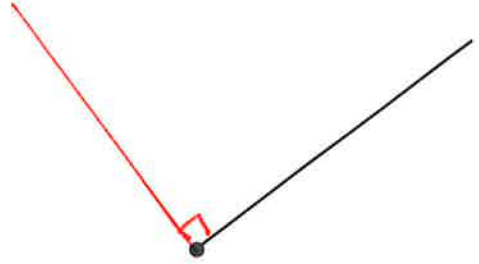
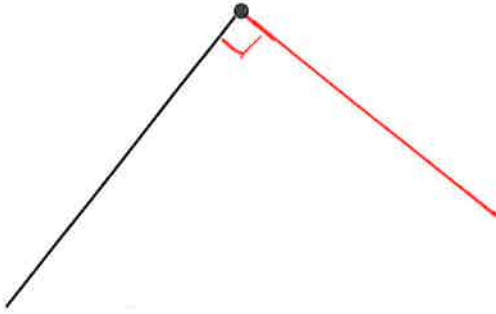
	ACTIVITÉS	COLLECTIF	INDIVIDUEL
Calcul mental	Ajout d'un nombre <10	✓	
Réviser	Horaires en heures et demie	✓	
Apprendre	Tracé d'angles droits et longueurs	✓	1 2

Date : _____

DICO
32

Tracer des angles droits

- 1 Trace des angles droits. Utilise un gabarit d'angle droit. Sur chaque dessin, un côté de l'angle droit est déjà tracé et son sommet est marqué en rouge.



- 2 Les côtés de l'angle droit du triangle rectangle mesurent 5 cm et 7 cm. Termine la reproduction du triangle rectangle. Le côté rose est déjà tracé.

