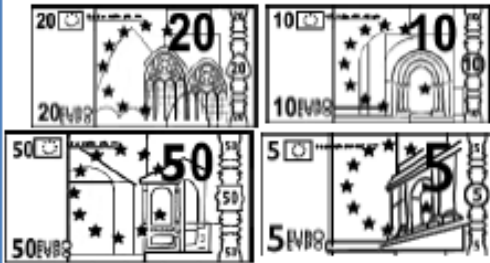


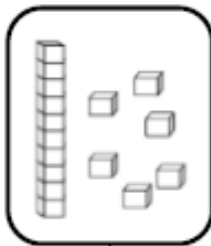
Fiche n° 7 : Les nombres de 0 à 90

Nombres et quantités: de 0 à 90


1 Colorie les pièces et billets correspondants à la somme dans la tirelire :




2 Dessine le nombre en barres




16



82



76



87

Nombres et quantités : de 0 à 90



1 Colorie de la même couleur ce qui est identique:

83

$80+5$

$80+3$

quatre-vingt-trois

quatre-vingt-sept

$20+20+20+20+7$

85

$20+20+20+20+5$

81

$20+20+20+20+3$

89

quatre-vingt-cinq

$20+20+20+20+9$

quatre-vingt-neuf

$80+1$

$80+9$

$80+7$

$20+20+20+20+1$

87

quatre-vingt-un