




Espace et géométrie : Les triangles
Reconnaître, représenter et décrire les triangles

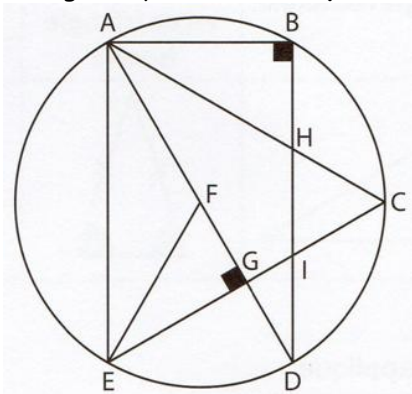
Fiche d'exercices n° 7
Leçon 4

 **Exercice 1** : Colorie de la bonne couleur.



Triangle équilatéral	Triangle isocèle	Triangle rectangle	Triangle rectangle isocèle
rouge	jaune	bleu	vert

 **Exercice 2** : Observe cette figure et nomme les 6 triangles rectangles, les 2 triangles isocèles et les 2 triangles équilatéraux. Reproduis ensuite la figure sur une feuille blanche.

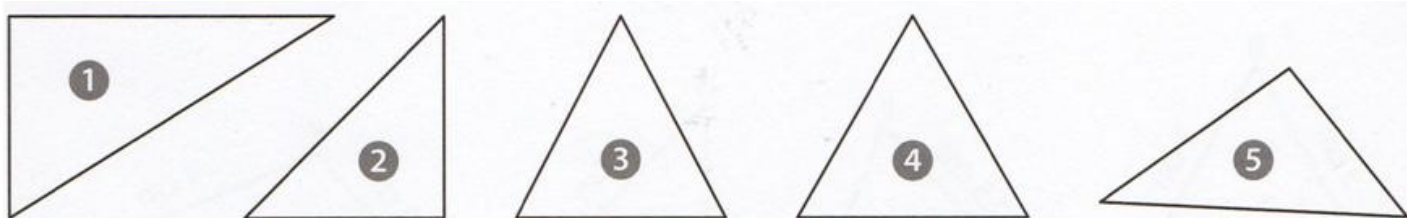


Triangles rectangles : _____

Triangles isocèles : _____

Triangles équilatéraux : _____

 **Exercice 3** : Observe les triangles suivants et complète le tableau.



Numéro du triangle	un angle droit	angles égaux	deux côtés de même longueur	trois côtés de même longueur	Nom du triangle
1					
2					
3					
4					
5					