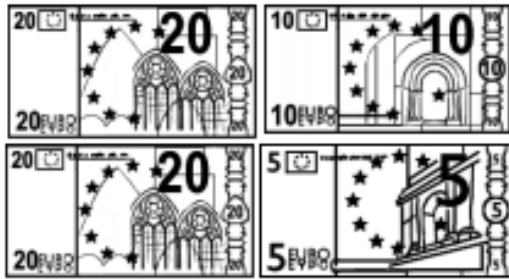


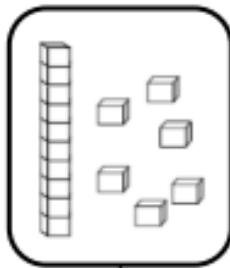
Fiche n° 6 : Les nombres de 0 à 70

Nombres et quantités: de 0 à 70


1 Colorie les pièces et billets correspondants à la somme dans la tirelire :




2 Dessine le nombre en barres




16



62



56



67

Nombres et quantités : de 0 à 70



1 Colorie de la même couleur ce qui est identique:

63

soixante-trois

soixante-sept

$60+7$

65

$60+5$

69

$60+3$

$60+9$

soixante-cinq

61

$60+1$

67

soixante-neuf

soixante-et-un