

# Le périmètre : identification et calcul


1 Compléter les définitions et définir les formules de calcul du périmètre des polygones suivants :

Le périmètre d'une figure .....

Pour calculer le périmètre d'un polygone.....

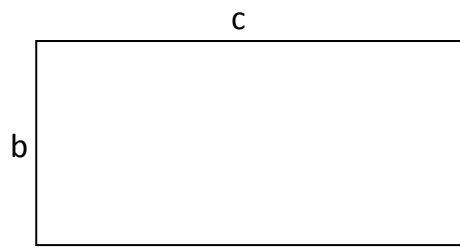
P = .....

P = .....

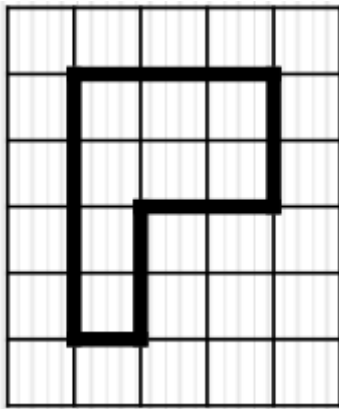


P = .....

P = .....

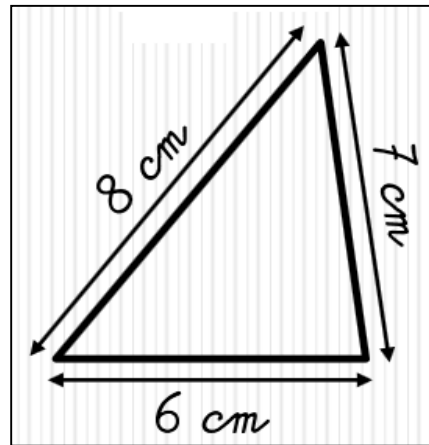


2 Calculer le périmètre des polygones suivants :



P = .....

P = .....



P = .....

P = .....

3 Quelle longueur de clôture faut-il acheter pour entourer le terrain suivant :

.....  
 .....  
 .....  
 .....

