

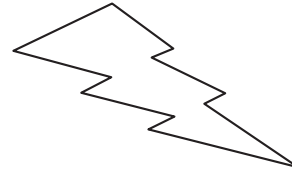

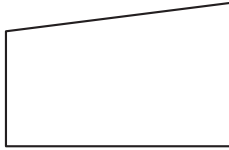
JE ME TESTE 1

Prénom

Date

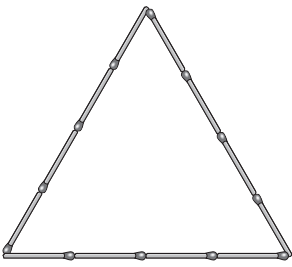

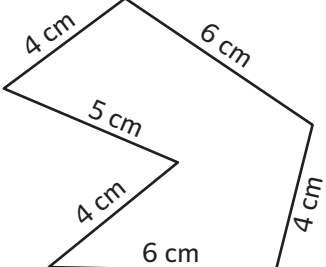


SAVOIR DÉFINIR LA NOTION DE PÉRIMÈTRE

1 Repasse en bleu le contour de ces figures. Cette mesure s'appelle :



TROUVER LA VALEUR DES PÉRIMÈTRES

2 Trouve le périmètre de ces figures dans les différentes unités de longueurs.

Figures			
Unités de longueur (u)			1 cm
Périmètres

MESURER DES PÉRIMÈTRES

3 Mesure et indique le périmètre de ces figures.

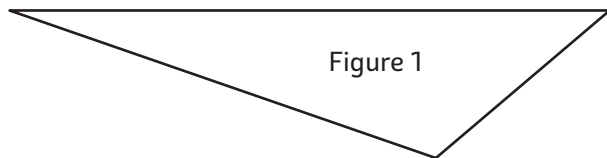


Figure 1

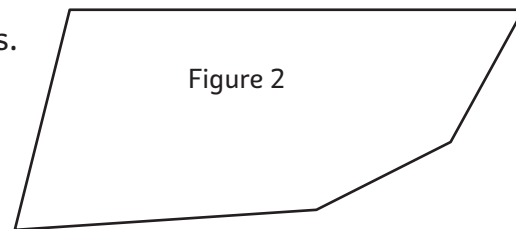


Figure 2

Périmètre =

Périmètre =

TRACER DES POLYGONES EN FONCTION DE LEUR PÉRIMÈTRE

4 Construis les polygones correspondant aux périmètres demandés.

P (figure A) = 30 u

P (figure B) = 46 u

