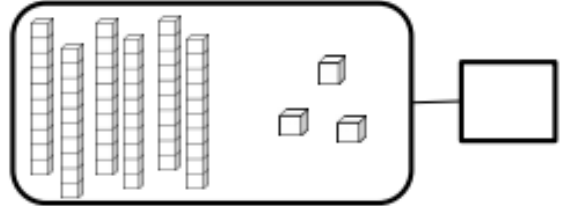
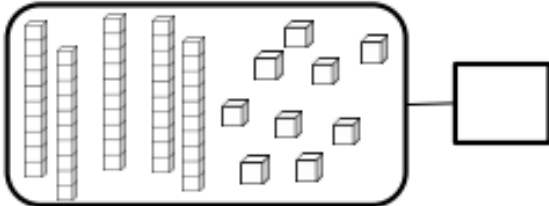
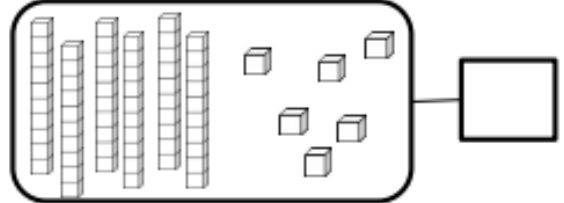
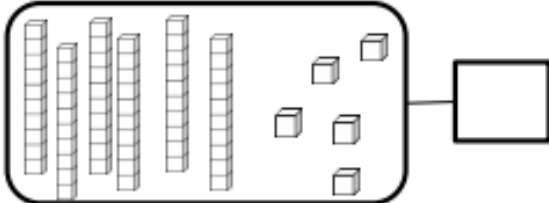


# Fiche n° 1 : Les nombres de 0 à 70

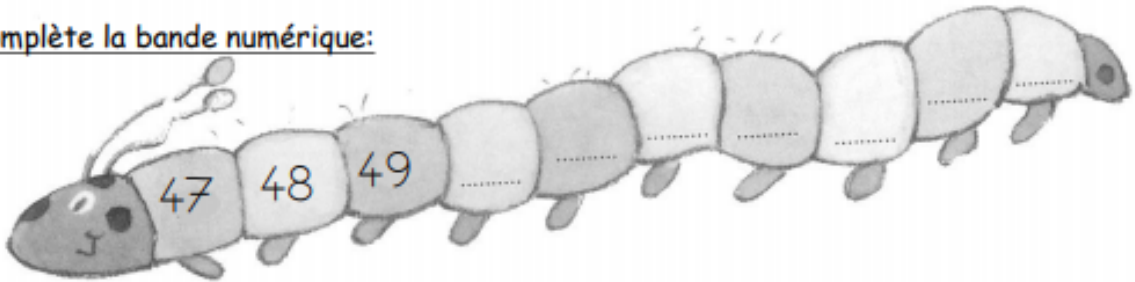
## Nombres et quantités : de 0 à 70



1 Complète avec le bon nombre :



2 Complète la bande numérique:



## Nombres et quantités : de 0 à 70

1 Complète les cases grises du tableau des nombres

	21								
						36			
		42							
50					55				
									69

2 Colorie les pièces et billets correspondants à la somme dans la tirelire :

