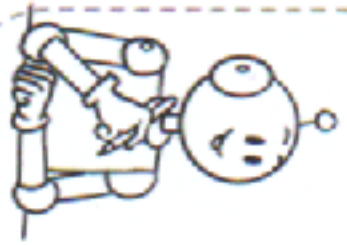



**1** Repérage sur quadrillage : Écris les coordonnées de chaque forme.



	1	2	3	4
A		☆		○
B	♡			
C	☾			

☆	(A; 2)
○	(A; 4)
♡	(B; 1)
☾	(C; 3)

**4** Repérage sur les noeuds : Dessine les formes sur les noeuds.



	1	2	3	4
A		✕		
B			●	
C	♡			
D				■

■	(D; 4)
✕	(A; 2)
●	(B; 3)
♡	(C; 1)


**2** Repérage sur quadrillage : Dessine les formes à leur place.



	1	2	3	4
A				○
B	☆			
C		♡		☾

☆	(B; 1)
○	(A; 4)
♡	(C; 2)
☾	(C; 4)

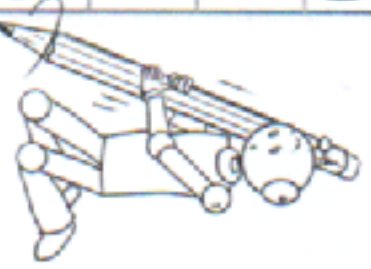
**5** Déplacements sur quadrillage : Code le parcours de la soucoupe.



**3** Repérage sur les noeuds : Écris les coordonnées de chaque forme.

	1	2	3	4
A		●		
B				♡
C		☆		
D	☾			

☆	(C; 2)
●	(A; 2)
♡	(C; 4)
☾	(D; 1)



**6** Déplacements sur quadrillage : Trace le parcours de la soucoupe.

